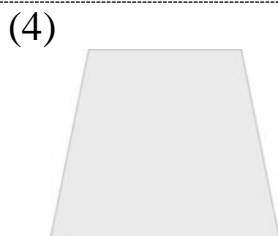
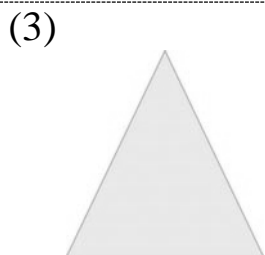
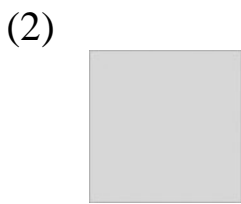
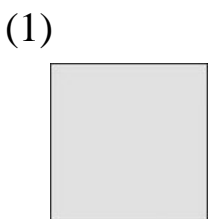


一、將各圖中有角的地方

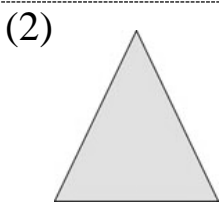
圈起來：每題5分，共20分



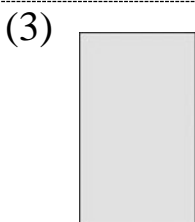
二、填填看：每格4分，共36分



這是( )形，  
有( )個頂點，  
有( )個角。



這是( )形，  
有( )個頂點，  
有( )個角。



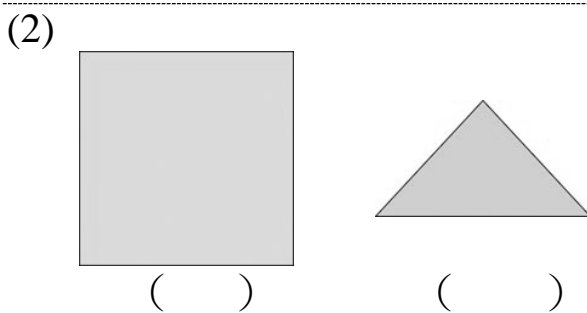
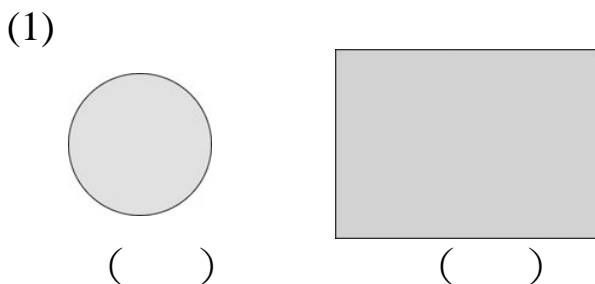
這是( )形，  
有( )個頂點，  
有( )個角。

三、比比看，哪一個面比較大？比較大的打√，比較小的畫○：每格2分，共8分

- (1) ( ) 教室的門。  
( ) 教室的天花板。

- (2) ( ) 數學課本的封面。  
( ) 書桌的桌面。

四、下圖中，面比較大的，在( )裡打√：每題4分，共8分



五、數數看，下面圖形各用了幾個小正方形拼成的？每題7分，共28分

